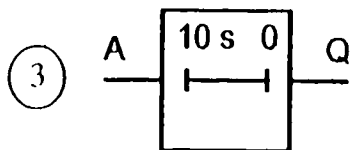
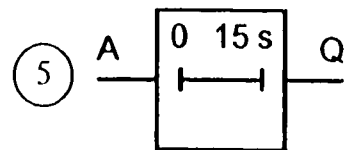
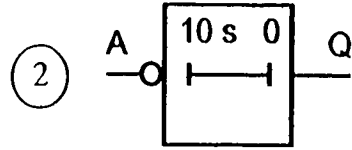
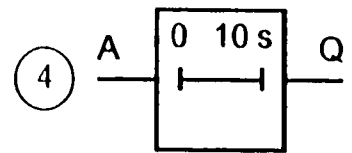
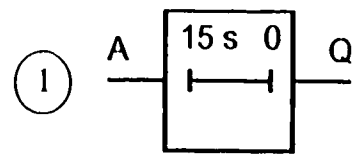
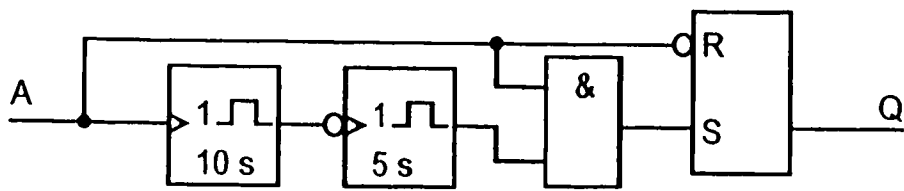


Aufgabenbank

Schaltungen der Digitaltechnik

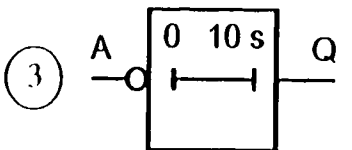
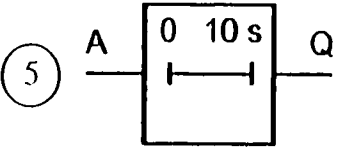
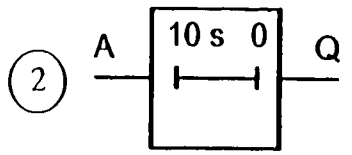
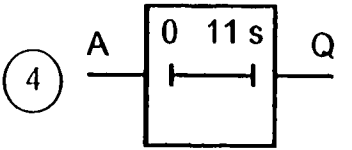
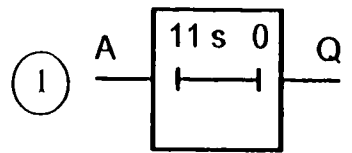
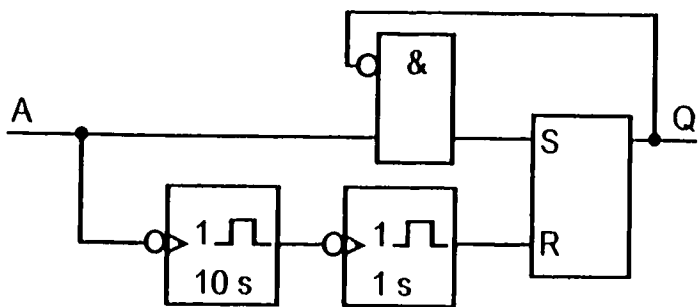
0567

Welcher der symbolisierten Digitalbausteine hat die gleiche Funktion wie die untenstehende Schaltung?



0568

Welcher der symbolisierten Digitalbausteine hat die gleiche Funktion wie die untenstehende Schaltung?



0569

Die untenstehende Schaltung soll bei dem gegebenen Eingangssignal das dargestellte Ausgangssignal erzeugen. Welches Schaltzeichen muß hierzu zwischen den Punkten 1 und 2 eingefügt werden?

